


10. Setze passende Rechenzeichen ein:

$$190 \square 39 \square 7 = 20 + 138$$



11. Die beiden Abbildungen sollen zum selben Würfel gehören. Zeichne alle vier in Abbildung 1 fett dargestellten Linien in Abbildung 2 mit Lineal ein.

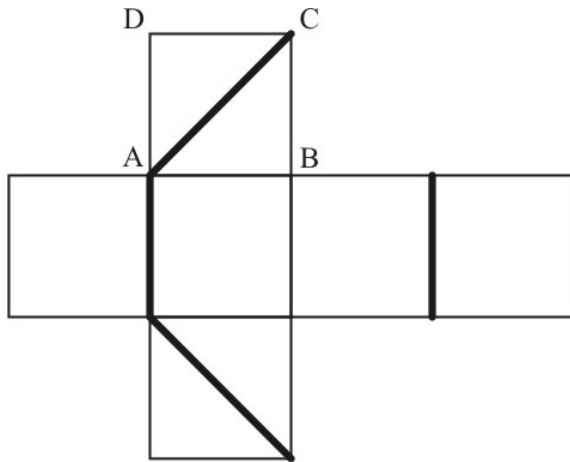


Abbildung 1

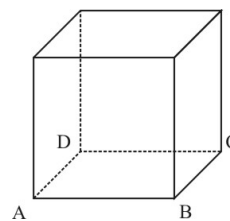
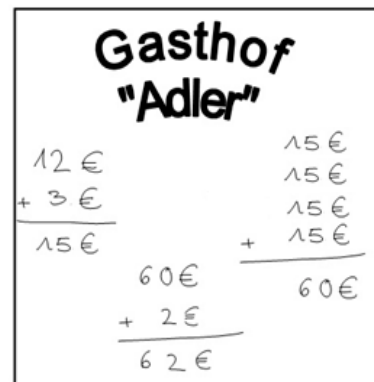


Abbildung 2



12. Markus geht mit seinen Eltern zum Essen in den Gasthof „Adler“. Auf dem Tisch liegt noch der Zettel von den vorherigen Gästen:

Schreibe eine passende Rechengeschichte.
Berücksichtige dabei alle Angaben.





13. Ergänze die Lücken in folgender Rechenkette sinnvoll.

