

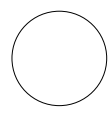
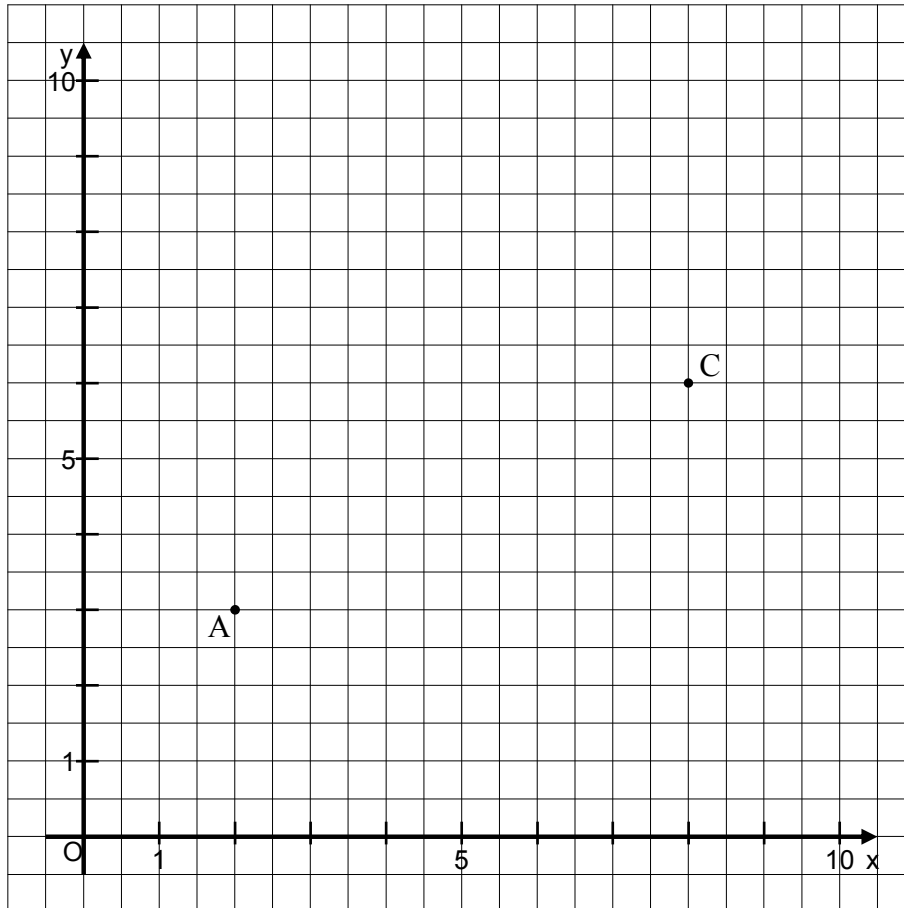






9. Selina muss im Mathematikunterricht ein Quadrat mit den Eckpunkten A, B, C und D zeichnen.  
Der Lehrer gibt die Punkte A und C im Gitternetz vor.

Ermittle die Koordinaten der fehlenden Punkte B und D durch eine Zeichnung im vorgegebenen Gitternetz.

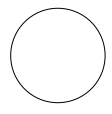


10. Hier siehst du ein Beispiel, wie man mit **3 Münzen** genau **3 Euro** erhält.

	50-Cent-Münze	1-Euro-Münze	2-Euro-Münze
Anzahl	2	0	1

Finde nun zwei Möglichkeiten, mit **7 Münzen** genau **32 Cent** zu erhalten.

	1-Cent-Münze	2-Cent-Münze	5-Cent-Münze	10-Cent-Münze	20-Cent-Münze
1. Möglichkeit:	Anzahl				
2. Möglichkeit:	Anzahl				



Punkte: