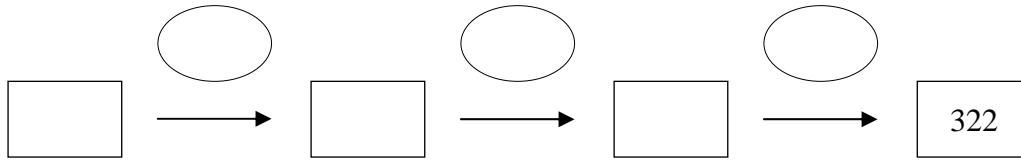




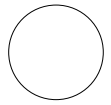




10. Matthias denkt sich eine Zahl. Von dieser nimmt er den dritten Teil und addiert zum erhaltenen Wert 27. Das Ergebnis multipliziert er mit 7 und erhält 322. Bestimme mithilfe der Rechenkette die gedachte Zahl und notiere die Zwischenergebnisse in der richtigen Reihenfolge.



Punkte

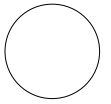


11. Die Zahlenreihe ist unvollständig.

a) Ergänze die Zahlen in den leeren Kästchen.

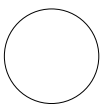


a)



b) Beschreibe deinen Rechenweg, wie du die Zahlenreihe nach rechts fortgesetzt hast.

b)



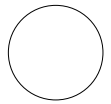


---



---

12. Die linke Figur wurde zweimal gespiegelt. Dabei entstand das rechte Bild.

Zeichne zwei geeignete Spiegelachsen ein. Ergänze in der Zeichnung die Figur, die bei der ersten Spiegelung entsteht.



Punkte: